

Azonosító
jel:

--	--	--	--	--	--	--	--	--	--	--	--	--	--	--	--	--	--	--	--

ÉRETTSÉGI VIZSGA • 2014. október 14.

MATEMATIKA
EMELT SZINTŰ
ÍRÁSBELI VIZSGA

2014. október 14. 8:00

Az írásbeli vizsga időtartama: 240 perc

Pótlapok száma	
Tisztázati	
Piszkozati	

EMBERI ERŐFORRÁSOK
MINISZTERIUMA


Azonosító
jel:

--	--	--	--	--	--	--	--	--	--	--	--	--	--	--	--	--	--	--	--

--	--	--	--	--	--	--	--	--	--	--	--	--	--	--	--	--	--	--	--

Fontos tudnivalók

1. A feladatok megoldására 240 perc fordítható, az idő leteltével a munkát be kell fejeznie.
2. A feladatok megoldási sorrendje tetszőleges.
3. A II. részben kitűzött öt feladat közül csak négyet kell megoldania. **A nem választott feladat sorszámát írja be a dolgozat befejezésekor az alábbi négyzetbe!** Ha a javító tanár számára *nem derül ki egyértelműen*, hogy melyik feladat értékelését nem kéri, akkor a kitűzött sorrend szerinti legutolsó feladatra nem kap pontot.



4. A feladatok megoldásához szöveges adatok tárolására és megjelenítésére nem alkalmas zsebszámológépet és bármilyen négyjegyű függvénytáblázatot használhat, más elektronikus vagy írásos segédeszköz használata tilos!
5. **A megoldások gondolatmenetét minden esetben írja le, mert a feladatra adható pontszám jelentős része erre jár!**
6. **Ügyeljen arra, hogy a lényegesebb részsámítások is nyomon követhetők legyenek!**
7. A feladatok megoldásánál használt tételek közül az iskolában tanult, névvel ellátott tételeket (pl. Pitagorasz-tétel, magasságtétel) nem kell pontosan megfogalmazva kimondania, elég csak a tétel megnevezését említenie, de az alkalmazhatóságát röviden indokolnia kell. Egyéb tétel(ek)re való hivatkozás csak akkor fogadható el teljes értékűnek, ha az állítást minden feltételével együtt pontosan mondja ki (bizonyítás nélkül), és az adott problémában az alkalmazhatóságát indokolja.
8. A feladatok végeredményét (a feltett kérdésre adandó választ) szöveges megfogalmazásban is közölje!
9. A dolgozatot tollal írja, de az ábrákat ceruzával is rajzolhatja. Az ábrákon kívül a ceruzával írt részeket a javító tanár nem értékelheti. Ha valamilyen megoldást vagy megoldásrészletet áthúz, akkor az nem értékelhető.
10. Minden feladatnak csak egy megoldása értékelhető. Több megoldási próbálkozás esetén **egyértelműen jelölje**, hogy melyiket tartja érvényesnek!
11. Kérjük, hogy **a szürkített téglalapokba semmit ne írjon!**

--	--	--	--	--	--	--	--	--	--	--	--	--	--	--	--	--	--	--	--

I.

1. Oldja meg a valós számok halmazán az alábbi egyenleteket!

a) $2\sin x - 2\sin^2 x = \cos^2 x$

b) $25^{\lg x} = 5 + 4 \cdot 5^{\lg x}$

a)	5 pont	
b)	7 pont	
Ö.:	12 pont	

--	--	--	--	--	--	--	--	--	--	--	--	--	--	--	--	--	--	--	--

--	--	--	--	--	--	--	--	--	--	--	--	--	--	--	--	--	--	--	--

2. Egy 2 cm sugarú, 20 cm széles festőhengerrel dolgozva egy fordulattal körülbelül 3 ml festéket viszünk fel a falra. (A festőhenger csúszás nélkül gördül a falon.)
- a) Elegendő-e 4 liter falfestéket vásárolnunk, ha a szobánkban 40 m^2 -nyi falfelületet egy rétegben, egyszer akarunk lefesteni?
- b) Milyen magasan állna 4 liter falfesték a 16 cm átmérőjű, forgáshenger alakú festékes vödörben?
Válaszát cm-ben, egészre kerekítve adja meg!

a)	6 pont	
b)	5 pont	
Ö.:	11 pont	

--	--	--	--	--	--	--	--	--	--	--	--	--	--	--	--	--	--	--	--

--	--	--	--	--	--	--	--	--	--	--	--	--	--	--	--	--	--	--	--

- 3.** Egy kereskedőcég bevételei két forrásból származnak: bolti árusításból és internetes eladásból. Ebben az évben az internetes árbevétel 70%-a volt a bolti árbevételnek. A cég vezetői arra számítanak, hogy a következő években az internetes eladásokból származó árbevétel évente az előző évi internetes árbevétel 4%-ával nő, a bolti eladásokból származó árbevétel viszont évente az előző évi bolti árbevétel 2%-ával csökken.

- a)** Számítsa ki, hány év múlva lesz a két forrásból származó árbevétel egyenlő!

A cég ügyfélszolgálatának hosszú időszakra vonatkozó adataiból az derült ki, hogy átlagosan minden nyolcvanadik vásárló tér vissza később valamilyen minőségi kifogással.

- b)** Határozza meg annak a valószínűségét, hogy 100 vásárló közül legfeljebb kettőnek lesz később minőségi kifogása!

a)	8 pont	
b)	6 pont	
Ö.:	14 pont	

--	--	--	--	--	--	--	--	--	--	--	--	--	--	--	--	--	--	--	--

--	--	--	--	--	--	--	--	--	--	--	--	--	--	--	--	--	--	--	--

4. Adott a síkbeli derékszögű koordináta-rendszerben az $y = 3x^2 - x^3$ egyenletű görbe.
- a) Igazolja, hogy ha $x \in]0;3[$, akkor $y > 0$.
 - b) Írja fel a görbe 3 abszcisszájú pontjában húzható érintőjének egyenletét!
(abszcissza: első koordináta)
 - c) Számítsa ki annak a síkidomnak a területét, amelyet a görbe első síknegyedbe eső íve és az x tengely fog közre!

a)	4 pont	
b)	5 pont	
c)	5 pont	
Ö.:	14 pont	

Azonosító
jel:

--	--	--	--	--	--	--	--	--	--	--	--	--	--	--	--	--	--	--	--

--	--	--	--	--	--	--	--	--	--	--	--	--	--	--	--	--	--	--	--

II.

Az 5-9. feladatok közül tetszése szerint választott négyet kell megoldania. A kihagyott feladat sorszámát írja be a 3. oldalon található üres négyzetbe!

5. A tavaszi idény utolsó bajnoki mérkőzésén a Magas Fiúk Kosárlabda Klubjának (MAFKK) teljes csapatából heten léptek pályára. A mérkőzés után az edző elkészítette a hét játékos egyéni statisztikáját. Az alábbi táblázat mutatja a játékosok dobási kísérleteinek számát és az egyes játékosok dobószázalékát egészre kerekítve. (A dobószázalék megmutatja, hogy a dobási kísérleteknek hány százaléka volt sikeres.)

Játékos mezszáma	Dobási kísérletek száma	Dobószázalék
4	2	50
5	3	0
6	10	60
7	8	25
10	7	43
13	6	33
15	14	57

- a) Számítsa ki, hogy mennyi volt a csapat dobószázaléka ezen a mérkőzésen!

Az őszi idény kezdete előtt egy hónappal a MAFKK csapatához csatlakozott egy 195 cm magas játékos, így a csapattagok magasságának átlaga a korábbi átlagnál 0,5 cm-rel nagyobb lett. Pár nap múlva egy 202 cm magas játékos is a csapat tagja lett, emiatt a csapattagok magasságának átlaga újabb 1 cm-rel nőtt.

- b) Hány tagja volt a MAFKK-nak, és mekkora volt a játékosok magasságának átlaga a két új játékos csatlakozása előtt?

a)	5 pont	
b)	11 pont	
Ö.:	16 pont	

Azonosító
jel:

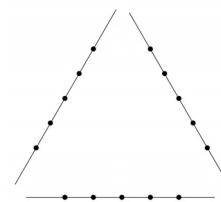
--	--	--	--	--	--	--	--	--	--	--	--	--	--	--	--	--	--	--	--

--	--	--	--	--	--	--	--	--	--	--	--	--	--	--	--	--	--	--	--

Az 5-9. feladatok közül tetszése szerint választott négyet kell megoldania. A kihagyott feladat sorszámát írja be a 3. oldalon található üres négyzetbe!

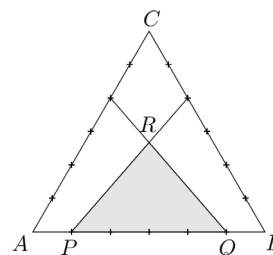
6. Megadtunk három egyenest, és mindegyiken megadtunk öt-öt pontot az ábra szerint.

a) Hány olyan szakasz van, amelynek mindkét végpontja az ábrán megadott 15 pont valamelyike, de a szakasz nem tartalmaz további pontot a megadott 15 pont közül?



Az egyenlő oldalú ABC háromszög 18 egység hosszúságú oldalait hat-hat egyenlő részre osztottuk, és az ábra szerinti osztópontok összekötésével megrajzoltuk a PQR háromszöget.

b) Számítsa ki a PQR háromszög területének pontos értékét!



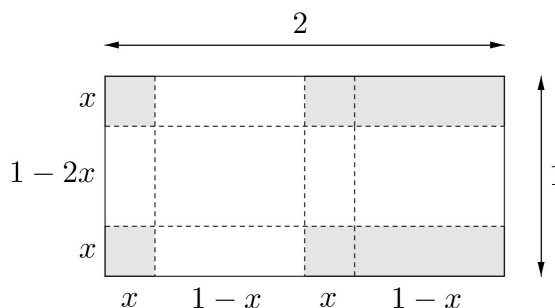
a)	6 pont	
b)	10 pont	
Ö.:	16 pont	

--	--	--	--	--	--	--	--	--	--	--	--	--	--	--	--	--	--	--	--

--	--	--	--	--	--	--	--	--	--	--	--	--	--	--	--	--	--	--	--

Az 5-9. feladatok közül tetszése szerint választott négyet kell megoldania. A kihagyott feladat sorszámát írja be a 3. oldalon található üres négyzetbe!

7. Egy üzemben egyforma, nagyméretű fém-dobozok gyártását tervezik. A téglatest alakú doboz hálózatát egy 2 méter \times 1 méteres téglalapról vágják ki az ábrán látható módon. A kivágott idom felhajtott lapjait az élek mentén összeforrasztják. (A forrasztási eljárás nem jár anyagvesztéssel.)



- a) Hogyan válasszák meg a doboz méreteit, hogy a térfogata maximális legyen? Válaszát centiméterben, egészre kerekítve adja meg!

A dobozokat egy öt karakterből álló kóddal jelölik meg. Minden kódban két számjegy és három nagybetű szerepel úgy, hogy a két számjegy nincs egymás mellett. Mindkét számjegy eleme a $\{0; 1; 2; 3; 4; 5; 6; 7; 8; 9\}$ halmaznak, a betűket pedig a 26 betűs (angol) ábécéből választják ki (például 7WA3A egy lehetséges kód).

- b) Hány különböző kód lehetséges?

a)	11 pont	
b)	5 pont	
Ö.:	16 pont	

--	--	--	--	--	--	--	--	--	--	--	--	--	--	--	--	--	--	--	--

--	--	--	--	--	--	--	--	--	--	--	--	--	--	--	--	--	--	--	--

Az 5-9. feladatok közül tetszése szerint választott négyet kell megoldania. A kihagyott feladat sorszámát írja be a 3. oldalon található üres négyzetbe!

- 8. a)** Határozza meg az alábbi kijelentések logikai értékét (igaz-hamis)!
Válaszait indokolja!

- I. Van olyan hatpontú fagráf, amelynek minden csúcsa páratlan fokszámú.
- II. Ha egy hétpontú egyszerű gráfnak 15 éle van, akkor a gráf összefüggő.
- III. Van olyan fagráf, amelyben a csúcsok számának és az élek számának összege páros.

Egy hatfős társaság tagjai A, B, C, D, E és F . Mindenkit megkérdeztünk, hogy hány ismerőse van a többiek között (az ismeretség kölcsönös). A válaszként kapott hat természetes szám szorzata 180. Az is kiderült, hogy A -nak legalább annyi ismerőse van, mint B -nek, B -nek legalább annyi ismerőse van, mint C -nek, és így tovább, E -nek legalább annyi ismerőse van, mint F -nek.

- b)** Szemléltesse egy-egy gráffal a lehetséges ismeretségi rendszereket!

a)	8 pont	
b)	8 pont	
Ö.:	16 pont	

--	--	--	--	--	--	--	--	--	--	--	--	--	--	--	--	--	--	--	--

--	--	--	--	--	--	--	--	--	--	--	--	--	--	--

**Az 5-9. feladatok közül tetszése szerint választott négyet kell megoldania.
A kihagyott feladat sorszámát írja be a 3. oldalon található üres négyzetbe!**

9. Éva egy 7×7 -es táblázat bal felső mezőjétől kezdve, balról jobbra haladva, sorról sorra beírta egy számtani sorozat első 49 tagját úgy, hogy a tagok sorrendjét nem változtatta meg. (A sorozat 1. tagja a bal felső sarokba került, a 8. tag a második sor első mezőjébe, a 49. tag pedig a jobb alsó sarokban áll.)

		91				
				11		

- a) Mennyi a táblázatba írt 49 szám összege, ha Éva a harmadik sor harmadik mezőjébe a 91-et, az ötödik sor ötödik mezőjébe pedig a 11-et írta?

Péter a táblázat minden sorából kiválasztja a számtani sorozat egy-egy tagját úgy, hogy a hét kiválasztott szám közül semelyik kettő ne legyen egy oszlopban.


- b) Igazolja, hogy akárhogyan is választja ki Péter így a számokat, a hét szám összege minden esetben ugyanannyi lesz!
- c) Határozza meg annak a valószínűségét, hogy a 91 és a 11 is a Péter által kiválasztott számok között lesz!

a)	5 pont	
b)	6 pont	
c)	5 pont	
Ö.:	16 pont	

--	--	--	--	--	--	--	--	--	--	--	--	--	--	--	--	--	--	--	--

--	--	--	--	--	--	--	--	--	--	--	--	--	--	--	--	--	--	--	--

--	--	--	--	--	--	--	--	--	--	--	--	--	--	--	--	--	--	--	--



--	--	--	--	--	--	--	--	--	--	--	--	--	--	--	--	--	--

	a feladat sorszáma	maximális pontszám	elért pontszám	maximális pontszám	elért pontszám
I. rész	1.	12		51	
	2.	11			
	3.	14			
	4.	14			
II. rész		16		64	
		16			
		16			
		16			
			← nem választott feladat		
Az írásbeli vizsgarész pontszáma				115	

_____ dátum

_____ javító tanár

	elért pontszám egész számra kerekítve	programba beírt egész pontszám
I. rész		
II. rész		

_____ javító tanár

_____ jegyző

_____ dátum

_____ dátum